



Begleitmaterial zu „Symmetrie 2“ · Vertiefung Sequenz 2

Die folgenden Seiten beinhalten das Begleitmaterial zur Unterrichtseinheit „Symmetrie“, Sequenz 2. Alle Arbeitsblätter sind als Klassensatz auszudrucken. Fett gedruckte Arbeitsblätter sind nur für die Lehrkraft als Unterrichtsmaterial gedacht.

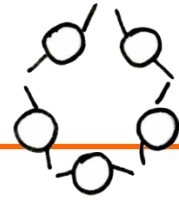
## Inhalt

Faltbilder .....	1
Station 1 - Erkennen.....	2
Station 2 - Zuordnen.....	3
Station 3 - Erstellen .....	4
Station 4 - Definition .....	5



## Faltbilder



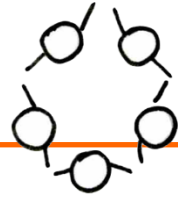
## Station 1 - Erkennen



Aufgabe:  
Kreuze die achsensymmetrischen Verkehrsschilder an.

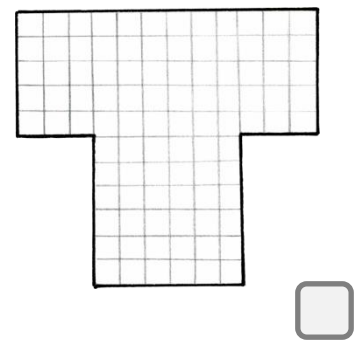
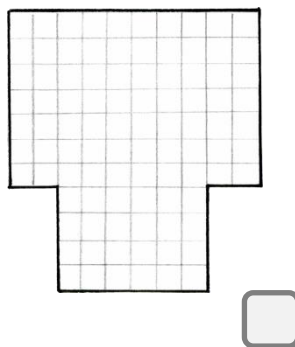
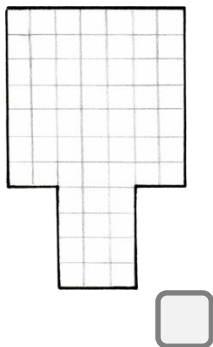
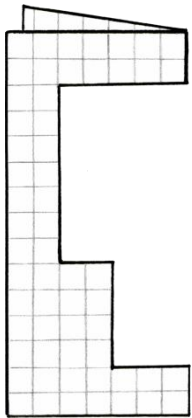

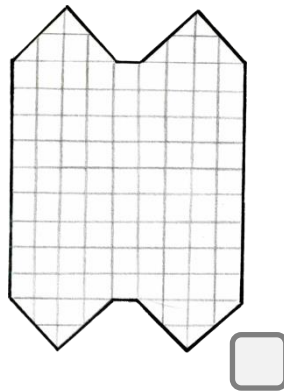
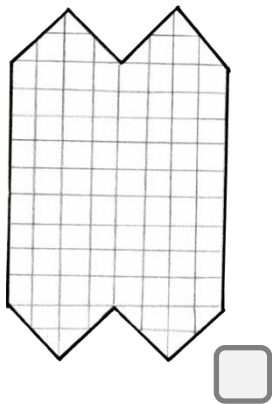

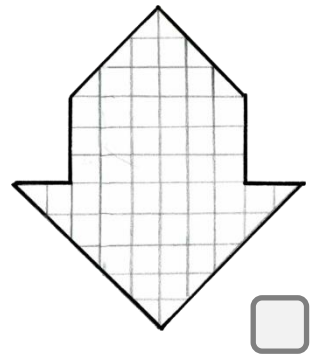
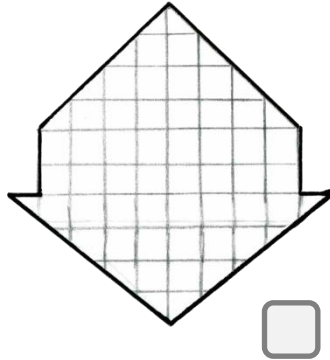
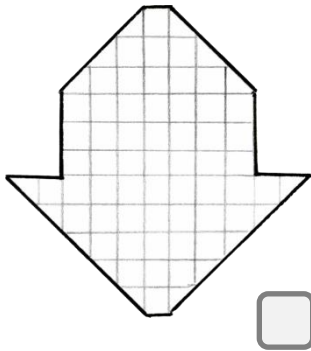
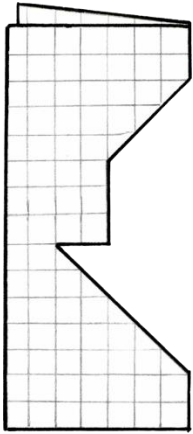


## Station 2 - Zuordnen

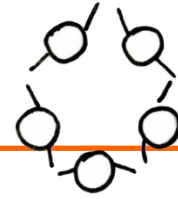


Aufgabe:

Ordne die ausgeschnittenen Figuren dem Faltbild zu. Kreuze die richtige Figur an.



### Station 3 - Erstellen

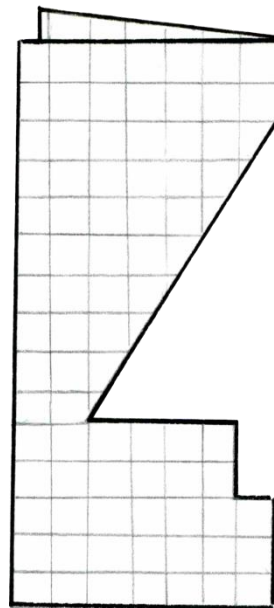
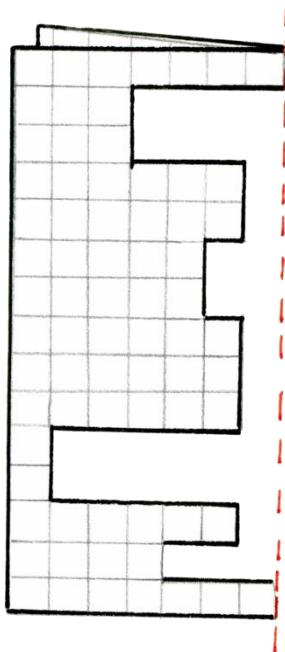


Aufgabe:

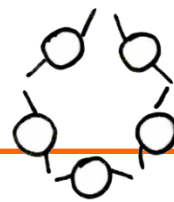
Welche Figuren entstehen nach dem Auffalten? Zeichne sie auf ein Blatt.



**Tipp:** Zeichne dir die **Faltlinie** (Symmetrieachse) ein und zähle dann die Kästchen. Denke dran, dass auf jeder Seite der Symmetrieachse gleichviele Kästchen sein müssen.



## Station 4 - Definition



Aufgabe:  
Beschreibt den Begriff „Achsensymmetrie“.

---

---

---

---

---

---

---

---

---

---

---

---

---

---

---

---

---

---

---

---

---

---

---

---